

FESTIVAL



LA PREUVE
PAR 9

Parcours pédestre Maths et Architecture

à la découverte de Saint-Brieuc





- 1 Hôtel Saint-Pierre
- 2 Le Temps des Sciences
- 3 Pavillon de Bellescize
- 4 Hôtel des Ducs de Bretagne
- 5 Cathédrale Saint-Étienne
- 6 La Passerelle
- 7 Façade Odorico
- 8 Immeuble des Nouvelles Galeries
- 9 Ancienne gare
- 10 La Griffe



1. Hôtel Saint-Pierre



Portrait

Nom : Hôtel Saint-Pierre

Lieu : Rue de Rohan

Histoire

Érigé en 1909 par l'architecte guingampais Georges Lefort, l'hôtel Saint-Pierre est, jusqu'en 2021, le siège de la direction régionale de la Caisse d'Épargne. Sa conception grandiose, la symétrie ainsi qu'un mélange de styles de différentes époques reflète une architecture typique du style "Beaux Arts". Aujourd'hui, il abrite 10 logements et est inscrit au titre des monuments historiques.

Question maths

La symétrie du bâtiment est :

- A) axiale, elle s'effectue par rapport à une droite
- B) centrale, elle se réalise à partir d'un point fixe

Réponse

Question architecture

Comment se nomme la décoration qui se trouve tout en haut du toit ?

- A) Un solin
- B) Un ornement de faîtage
- C) Une rampe

Réponse

2. Le Temps des Sciences



Portrait

Nom : Le Temps des Sciences

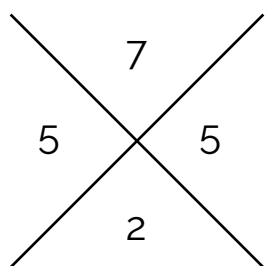
Lieu : 7 Rue Poulain Corbion

Histoire

Créée en 2016, Le Temps des Sciences est une association de promotion de la Culture Scientifique, Technique et Industrielle du Pays de Saint-Brieuc. Son objectif : fédérer les communautés scientifique, éducative et industrielle au sein d'un réseau œuvrant à promouvoir un territoire innovant. Chaque année, l'association organise le festival La Preuve Par 9 au mois de mars.

La Preuve par 9

La preuve par 9 est une méthode pour vérifier le résultat d'une multiplication réalisée « à la main ». Par exemple, à l'opération posée 421×137 , nous avons trouvé 57 677 et souhaitons vérifier le résultat en complétant la croix ci-dessous avec :



- en haut, le reste par 9 de la somme des chiffres du premier nombre $4+2+1=7$
- en bas, le reste par 9 de la somme des chiffres du premier nombre $1+3+7=11$ puis $1+1=2$
- à droite, le reste par 9 du produit de ces deux derniers nombres $7 \times 2 = 14$ puis $1+4=5$
- à gauche, le reste par 9 de la somme des chiffres du résultat trouvé $5+7+6+7+7=32$ puis $3+2=5$


Pour que le résultat soit correct, il faut que le nombre de droite soit égal au nombre de gauche. Attention ! Ceci ne permet pas de dire à coup sûr que le résultat est juste mais si les deux nombres sont différents, le résultat est, à coup sûr, faux !

Question maths

Applique cette méthode pour vérifier l'opération $825 \times 467 = 385\,275$.

Quel est le chiffre qui est positionné dans la case de droite ?

Réponse



3. Pavillon de Bellescize



Portrait

Nom : Pavillon de Bellescize

Lieu : Place des Droits de l'Homme

Histoire

Édifié entre 1775 et 1789 par le dernier évêque de Saint-Brieuc, Regnauld de Bellescize, le pavillon de Bellescize adopte le style architectural Louis XV. Sa construction est interrompue par la Révolution française, puis le pavillon est remanié au XIX siècle. Il constitue aujourd'hui un témoignage de l'importance de la fonction d'évêque dans la ville de Saint-Brieuc.

Question maths

Sachant que l'escalier du pavillon possède 11 marches, combien de pas faut-il faire pour arriver en haut en montant les marches 2 par 2 ?

Réponse

Question architecture

Avec quel matériau est construit l'escalier du pavillon de Bellescize ?

- A) Des briques
- B) Des pierres taillées
- C) Des ardoises

Réponse

4. Hôtel des Ducs de Bretagne



Portrait

Nom : Hôtel des Ducs de Bretagne

Lieu : Rue Fardel

Histoire

Construite en 1572, cette ancienne auberge a été classée Monument Historique en 1889. Sa façade présente des décors sculptés dans le bois comme des médaillons à tête de lion, des figures de reîtres casqués, des pilastres avec des acanthes et d'autres motifs ornementaux. Tout en haut du bâtiment se trouve aussi un griffon sculpté dans la pierre.

Question maths

Combien y a-t-il de triangles sous les fenêtres dans les deux zones encadrées en jaune sur la photo ?

Réponse

Question architecture

Ce type de bâtiment s'appelle :

- A) maison à pans de bois
- B) maison à pondalez
- C) maison de l'Isle

Réponse

5. Cathédrale Saint-Étienne



Portrait

Nom : Cathédrale Saint-Étienne

Lieu : Place du Martray

Histoire

La cathédrale Saint-Étienne est une cathédrale catholique qui a été construite sur un marécage du 13^e au 18^e siècle. Elle est notamment constituée de deux tours en granit : la tour Brieuç et la tour Marie. La sonnerie de l'édifice est composée de cinq cloches de volées réparties dans les deux tours. Aux pieds de la cathédrale, se trouvent les Halles Georges Brassens.

Question maths

Compter, sous les Halles, les piliers de forme cylindrique.
Sachant qu'un pilier mesure 3 mètres de haut, si on met tous les piliers bout à bout, quelle distance cela représente-t-il ?

Réponse

Question architecture

Quel est le style architectural de la cathédrale ?
A) gothique, avec des arcs brisés, et des grands vitraux
B) baroque, avec des formes dynamiques et beaucoup de décorations

Réponse

6. La Passerelle



Portrait

Nom : La Passerelle

Lieu : Place de la résistance

Histoire

La Passerelle est la scène nationale de Saint-Brieuc. Elle propose une programmation artistique et culturelle riche et variée. À l'intérieur se trouve le petit théâtre, construit en 1884, dans le style architectural "à l'italienne".

Question maths

Combien y-a-t-il de rectangles dans une fenêtre (entourée sur la photo) ?

Réponse

Question architecture

Comment se nomme le haut des colonnes qui sont présentes sur la façade de la passerelle ?

- A) un couvre chef
- B) un chapeau
- C) un chapiteau

Réponse

7. Façade Odorico



Portrait

Nom : Façade Odorico

Lieu : Rue du Général Leclerc

Histoire

Cet immeuble de 1930 est décoré d'une œuvre d'Isidore Odorico. Cet artiste rennais est connu pour son travail sur l'embellissement de bâtiments en France notamment des églises et des monuments dans un style Art déco. L'art décoratif s'est développé entre les années 1920 et 1930 et est souvent caractérisé par l'utilisation de formes géométriques, de couleurs vives et de matériaux luxueux comme le marbre ou le verre.

Question maths

Sachant qu'un carré mesure 1cm de côté, combien faut-il de carrés pour recouvrir une surface de 174cm de long et 75 cm de large ?

Réponse

Question architecture

Comment s'appelle la technique artistique utilisée pour décorer cette façade ?

- A) Bas-relief,
- B) Peinture trompe l'œil,
- C) Mosaïque.

Réponse

8. Immeuble des Nouvelles Galeries



Portrait

Nom : Immeuble des Nouvelles Galeries

Lieu : Place Duguesclin

Histoire

L'Immeuble des Nouvelles Galeries est un ancien grand magasin construit au début du XX^e siècle (ouvert en 1913), caractéristique de l'architecture commerciale de la Belle Époque. Il fut, jusqu'à la fin des années 1980, une commerce spécialisé dans l'ameublement et le prêt-à-porter. Il a ensuite été transformé en banque dans les années 1990.

Question maths

Jean a acheté un pantalon au prix de 100 francs au grand magasin. Quel serait le prix de ce bonnet aujourd'hui sachant que :
1 franc = 0.152 euros

Réponse

Question architecture

Comment s'appelle le toit arrondi ?
A) un cercle
B) un dôme
C) un toit terrasse

Réponse

9. Ancienne gare



Portrait

Nom : Ancienne
gare départementale

Ingénieur : Louis Harel de la Noë

Lieu : Boulevard
Waldeck Rousseau

Histoire

L'ancienne gare départementale de Saint-Brieuc servait autrefois de gare ferroviaire pour le département des Côtes-d'Armor. Elle a joué un rôle important dans le développement économique et social de la région en facilitant les échanges de marchandises et de personnes. Ce bâtiment est reconnaissable par l'usage de brique colorée, typique du travail de l'ingénieur Louis Harel de la Noë.

Question architecture

L'arc au-dessus de la partie en verre de la gare est :

- A) Une spirale
- B) Un arc de cercle
- C) Une chaînette

Réponse

10. La Griffe



Portrait

Nom : Espace La Griffe

Lieu : Rue des Lycéens Martyrs

Histoire

L'espace La Griffe, ancienne chapelle de l'ensemble scolaire La Providence, appartient désormais à la Ville de Saint-Brieuc qui l'a réhabilité en tiers-lieu culturel et artistique.

Question maths

Combien y-a-t-il d'arcs de cercles sur les fleurs, sur la façade de La Griffe (entourée en jaune sur la photo) ?

Réponse

Question architecture

Comment s'appelle le type d'arc visible sur les portes du bâtiment ?

- A) arc roman, formant un demi-cercle
- B) arc brisé, en forme de pointe, comme un grand V arrondi

Réponse

Jeu : Mots mêlés


Règle du jeu

Retrouver dans la grille les 15 mots sur le thème mathématiques et architecture. Ils peuvent être cachés de gauche à droite, de droite à gauche, de haut en bas, de bas en haut et en diagonale.

E	I	R	T	E	M	Y	S	O	W	H	L	F
P	O	C	H	A	I	N	E	T	T	E	E	P
E	G	O	T	H	I	Q	U	E	U	R	S	V
L	O	D	S	K	J	F	Q	Q	A	U	L	F
A	P	O	J	G	R	S	I	G	E	T	U	L
R	T	R	H	A	Y	R	T	B	X	C	C	F
D	J	I	N	U	D	U	A	R	E	E	L	L
E	K	C	E	N	I	O	M	I	R	T	A	P
H	S	O	I	A	B	C	É	Q	U	I	C	P
T	D	L	J	C	R	R	H	U	T	H	I	D
A	Y	E	A	A	L	A	T	E	L	C	N	Q
C	Q	Y	U	R	W	P	A	S	U	R	Y	Y
A	H	Q	V	C	K	R	M	B	C	A	O	P

Mots à retrouver

- | | |
|-----------------|-------------------|
| 1. ARCHITECTURE | 9. GARE |
| 2. BRIQUES | 10. GOTHIQUE |
| 3. CALCULS | 11. MATHEMATIQUES |
| 4. CATHEDRALE | 12. ODORICO |
| 5. CHAINETTE | 13. PARCOURS |
| 6. CULTURE | 14. PATRIMOINE |
| 7. CYLINDRIQUE | 15. SYMETRIE |
| 8. FRANCS | |



A : Rouge B : Orange C : Bleu foncé D : Bleu clair
E : Jaune F : Vert G : Violet H : Rose I : Vert clair
J : Noir K : Marron

Parcours proposé dans le cadre du festival La Preuve Par 9

FESTIVAL



**LA PREUVE
PAR 9**

Quand les maths rencontrent l'architecture !

Le parcours est à retrouver en ligne sur MathCityMap avec le code 3530933



***Association Le Temps des Sciences
7 rue Poulain Corbion***

contact@letempsdessciences.fr / 09 54 82 45 88

www.letempsdessciences.fr